

IME – 2003

1º DIA

# MATEMÁTICA

## Matemática – Questão 01

Seja  $z$  um número complexo de módulo unitário que satisfaz a condição  $z^{2n} \neq -1$ , em que  $n$  é um número inteiro positivo.

**DEMONSTRE** que  $\frac{z^n}{1+z^{2n}}$  é um número real.

**Resolução:**

$$z = \cos \theta + i \operatorname{sen} \theta = \operatorname{cis} \theta \Rightarrow z^n = \operatorname{cis}(n\theta) \text{ e } z^{-n} = \operatorname{cis}(-n\theta)$$

Dividindo numerador e denominador por  $z^n \neq 0$ , temos

$$\begin{aligned} \frac{z^n}{1+z^{2n}} &= \frac{\frac{z}{z^n}}{\frac{1}{z^n} + \frac{z^{2n}}{z^n}} = \frac{1}{z^{-n} + z^n} = \\ &= \frac{1}{\cos(-n\theta) + i \operatorname{sen}(-n\theta) + \cos(n\theta) + i \operatorname{sen}(n\theta)} = \frac{1}{2 \cos(n\theta)} \in \mathbb{R} \end{aligned}$$

## Matemática – Questão 02

**DETERMINE** todos os valores reais de  $x$  que satisfazem a equação:

$$|\log(12x^3 - 19x^2 + 8x)| = \log(12x^3 - 19x^2 + 8x)$$

onde  $\log(y)$  e  $|y|$  representam, respectivamente, o logaritmo na base 10 e o módulo de  $y$ .

### Resolução:

Condição de existência

$$12x^3 - 19x^2 + 8x > 0$$

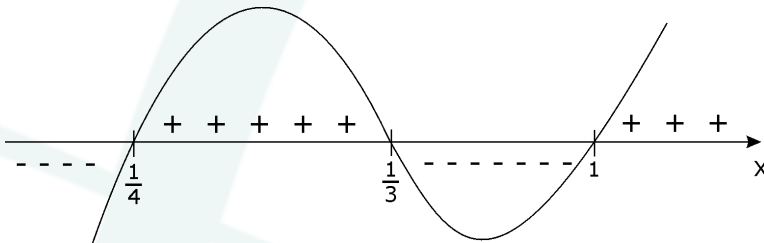
$$|\log(12x^3 - 19x^2 + 8x)| = \log(12x^3 - 19x^2 + 8x) \Leftrightarrow \log(12x^3 - 19x^2 + 8x) \geq 0$$

$$12x^3 - 19x^2 + 8x \geq 1 \text{ (já satisfeita a condição de existência do logaritmo).}$$

$$12x^3 - 19x^2 + 8x - 1 \geq 0$$

Notemos que 1 é raiz do polinômio  $P(x) = 12x^3 - 19x^2 + 8x - 1$ . Ao dividirmos  $P(x)$  por  $x - 1$ , encontramos  $12x^2 - 7x + 1$  que tem raízes  $1/3$  e  $1/4$ .

Estudando o sinal de  $P(x)$ :

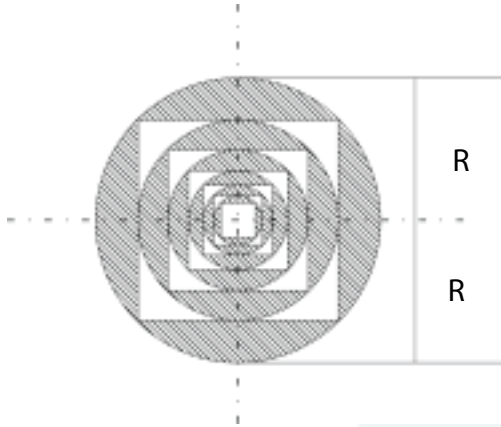


Do exposto:

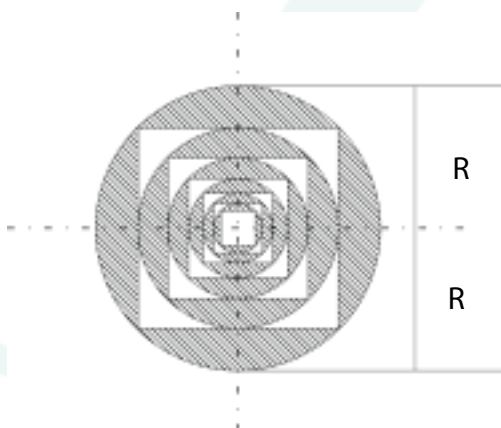
$$S = \{x \in \mathbb{R} / 1/4 \leq x \leq 1/3 \text{ ou } x \geq 1\}$$

## Matemática – Questão 03

Dada uma circunferência de raio  $R$ , inscreve-se nela um quadrado. A seguir, inscreve-se uma circunferência neste quadrado. Este processo se repete indefinidamente para o interior da figura de maneira que cada quadrado estará sempre inscrito em uma circunferência e simultaneamente circunscrito por outra. **CALCULE**, em função de  $R$ , a soma das áreas delimitadas pelos lados dos quadrados e pelas circunferências que os circunscrevem, conforme mostra a figura.



**Resolução:**



Temos o somatório das áreas de várias figuras semelhantes, notemos que essas áreas formam uma P.G. de primeiro termo.

$A_1 = \text{Área do } 1^\circ \text{ círculo} - \text{Área do } 1^\circ \text{ quadrado}$

$$A_1 = \pi R^2 - (R\sqrt{2})^2$$

$$A_1 = R^2 (\pi - 2).$$

Encontremos, então, razão dessa P.G.

A razão de semelhança entre uma figura e sua antecessora é  $\frac{R}{R\sqrt{2}} = \frac{1}{\sqrt{2}}$ , e daí a razão para áreas,

ou seja, da P.G. é  $\left(\frac{1}{\sqrt{2}}\right)^2 = \frac{1}{2}$ .

Assim sendo, teremos a soma  $S = A_1 + A_2 + A_3 + \dots = \frac{A_1}{1 - \frac{1}{2}}$

$$S = 2A_1$$

$$S = 2R^2(\pi - 2).$$

## Matemática – Questão 04

**RESOLVA** a equação  $\operatorname{tg} a + \operatorname{tg}(2a) = 2 \operatorname{tg}(3a)$ , sabendo-se que  $a \in [0, \pi/2)$ .

**RESOLUÇÃO:**

$$\operatorname{tg} a + \operatorname{tg}(2a) = 2 \cdot \operatorname{tg}(3a), a \in [0, \pi/2) \Rightarrow$$

$$\operatorname{tg} 3a - \operatorname{tg} a = \operatorname{tg} 2a - \operatorname{tg} 3a$$

Lembrando que  $\operatorname{tg} p \pm \operatorname{tg} q = \frac{\operatorname{sen}(p \pm q)}{\cos p \cdot \cos q}$  e  $\cos a \neq 0$  vem:

$$\frac{\operatorname{sen} 2a}{\cos 3a \cdot \cos a} = \frac{-\operatorname{sen} a}{\cos 2a \cdot \cos 3a} \Rightarrow \operatorname{sen} 2a \cdot \cos 2a = -\operatorname{sen} a \cdot \cos a \Rightarrow$$

$$2 \cdot \operatorname{sen} a \cdot \cos a \cdot \cos 2a = -\operatorname{sen} a \cdot \cos a \Rightarrow \operatorname{sen} a \cdot (2 \cdot \cos 2a + 1) = 0$$

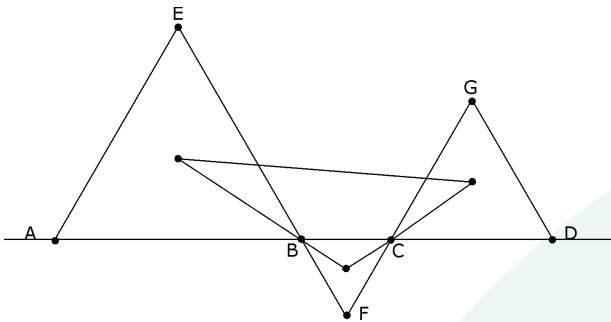
$$\cos 2a = -1/2 \Rightarrow a = \pi/3$$

$$\operatorname{sen} a = 0 \Rightarrow a = 0$$

$$S = \left\{ 0, \frac{\pi}{3} \right\}$$

## Matemática – Questão 05

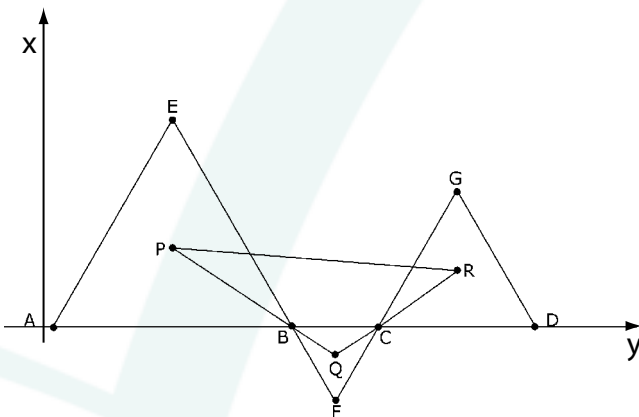
Sobre uma reta  $r$  são marcados os pontos A, B, C e D. São construídos os triângulos equiláteros ABE, BCF e CDG, de forma que os pontos E e G encontram-se do mesmo lado da reta  $r$ , enquanto que o ponto F encontra-se do lado oposto, conforme mostra a figura. **CALCULE** a área do triângulo formado pelos baricentros de ABE, BCF e CDG, em função dos comprimentos dos segmentos AB, BC e CD.



**Resolução:**

**Solução 1:**

Sem perda de generalidade, tomemos o ponto A como origem do plano cartesiano, conforme a figura seguinte.



Façamos  $AB = a$ ,  $BC = b$ ,  $CD = c$  e P, Q e R os baricentros dos triângulos ABE, BCF e CDG, respectivamente, logo

$$P\left(\frac{a}{2}, \frac{1}{3} \frac{a\sqrt{3}}{2}\right), Q\left(a + \frac{b}{2}, -\frac{1}{3} \frac{b\sqrt{3}}{2}\right) \text{ e } R\left(a + b + \frac{c}{2}, \frac{1}{3} \frac{c\sqrt{3}}{2}\right)$$

$$D = \begin{vmatrix} \frac{a}{2} & \frac{a\sqrt{3}}{6} & 1 \\ \frac{2a+b}{2} & -\frac{b\sqrt{3}}{6} & 1 \\ \frac{2a+2b+c}{2} & \frac{c\sqrt{3}}{6} & 1 \end{vmatrix}$$

$$D = -\frac{ab\sqrt{3}}{12} + \frac{a\sqrt{3}(2a+2b+c)}{12} + \frac{c\sqrt{3}(2a+b)}{12} + \frac{b\sqrt{3}(2a+2b+c)}{12} - \frac{a\sqrt{3}(2a+b)}{12} - \frac{ac\sqrt{3}}{12}$$

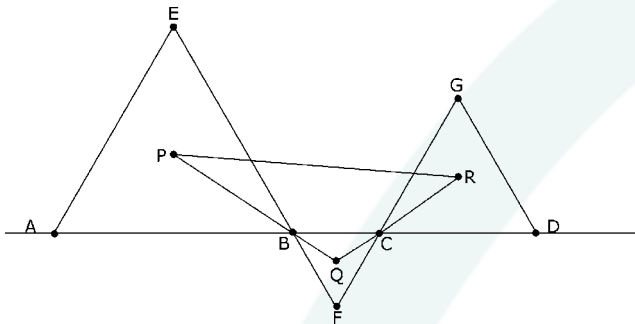
$$D = \frac{\sqrt{3}}{12} (2ab + 2ac + 2bc + 2b^2) = \frac{\sqrt{3}}{6} (ab + ac + bc + b^2)$$

$$S_{PQR} = \frac{1}{2} |D| = \frac{\sqrt{3}}{12} (ab + ac + bc + b^2) = \frac{\sqrt{3}}{12} [a(b+c) + b(b+c)] = \frac{\sqrt{3}}{12} (b+c) \cdot (a+b)$$

$$S_{PQR} = \frac{\sqrt{3}}{12} (BC+CD) \cdot (AB+BC).$$

### Solução 2:

Façamos  $AB = a$ ,  $BC = b$ ,  $CD = c$  e  $P$ ,  $Q$  e  $R$  os baricentros dos triângulos  $ABE$ ,  $BCF$  e  $CDG$ , respectivamente.



Notemos que  $PB$  é  $2/3$  da altura  $\frac{a\sqrt{3}}{2}$  do triângulo  $ABE$ , ou seja,  $PB = \frac{a\sqrt{3}}{3}$ .

Analogamente  $QB = QC = \frac{b\sqrt{3}}{3}$  e  $CR = \frac{c\sqrt{3}}{3}$ .

Notemos ainda que os ângulos  $QCB$  e  $QBC$  medem  $30^\circ$  cada e, portanto, o ângulo  $BQC$  mede  $120^\circ$ .

$$S_{PQR} = \frac{1}{2} QP \cdot QR \cdot \sin 120^\circ = \frac{1}{2} \left( \frac{b\sqrt{3}}{3} + \frac{a\sqrt{3}}{3} \right) \left( \frac{b\sqrt{3}}{3} + \frac{c\sqrt{3}}{3} \right) \cdot \frac{\sqrt{3}}{2}$$

$$S_{PQR} = \frac{\sqrt{3}}{12} (ab + ac + bc + b^2) = \frac{\sqrt{3}}{12} [a(b+c) + b(b+c)] = \frac{\sqrt{3}}{12} (b+c) \cdot (a+b)$$

$$S_{PQR} = \frac{\sqrt{3}}{12} (BC+CD) \cdot (AB+BC).$$

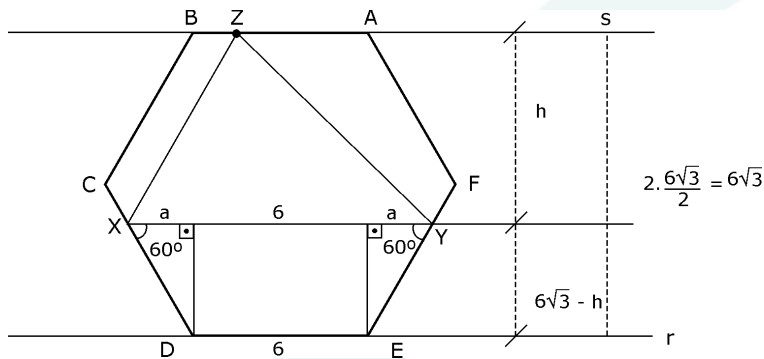
## Matemática – Questão 06

Considere um hexágono regular de 6 cm de lado. **DETERMINE** o valor máximo da área de um triângulo XYZ, sabendo-se que

- A) os pontos X, Y e Z estão situados sobre lados do hexágono
- B) a reta que une os pontos X e Y é paralela a um dos lados do hexágono.

### Resolução:

Na figura adiante tomemos o lado XY paralelo às retas **r** e **s** e mais próximo de **r**.



Para um triângulo XYZ de área máxima o vértice Z deve estar sobre o lado AB do hexágono (maior altura). Tomemos  $h$  como a medida da altura relativa à base XY do triângulo XYZ e  $S$  sua área. No trapézio isósceles XDEY.

$$XY = 6 + 2a \text{ e } \operatorname{tg} 60^\circ = \frac{6\sqrt{3} - h}{a}, \text{ logo}$$

$$XY = 6 + 2 \cdot \frac{6\sqrt{3} - h}{\sqrt{3}} = 18 - \frac{2}{\sqrt{3}} \cdot h.$$

Do exposto vem

$$S = \frac{1}{2} \cdot XY \cdot h = \frac{1}{2} \cdot \left( 18 - \frac{2}{\sqrt{3}} h \right) \cdot h$$

$$S = -\frac{1}{\sqrt{3}} h^2 + 9h.$$

$$S_{\text{máxima}} = -\frac{\Delta}{4a} = -\frac{\left[ 9^2 - 4 \left( -\frac{1}{\sqrt{3}} \right) \cdot 0 \right]}{4 \cdot \left( -\frac{1}{\sqrt{3}} \right)}$$

$$S_{\text{máxima}} = \frac{81\sqrt{3}}{4}$$



## Matemática – Questão 07

Sejam A e B dois subconjuntos de  $\mathbb{N}$ . Por definição, uma função  $f: A \rightarrow B$  é crescente se  $a_1 > a_2 \Rightarrow f(a_1) \geq f(a_2)$ , para quaisquer  $a_1$  e  $a_2 \in A$ .

A) Para  $A = \{1, 2\}$  e  $B = \{1, 2, 3, 4\}$ , quantas funções de A para B são crescentes?

B) Para  $A = \{1, 2, 3\}$  e  $B = \{1, 2, \dots, n\}$ , quantas funções de A para B são crescentes, em que  $n$  é um número inteiro maior que zero?

### Resolução:

De acordo com a definição de função crescente, notemos que uma vez escolhidos os elementos do contradomínio B (distintos ou não) que servirão de imagem, a função de A em B é única. Logo o número de funções é dado pela combinação com repetição dos 4 elementos de B tomados 2 a 2 no item A; já no item B basta fazermos uma combinação com repetição dos  $n$  elementos tomados 3 a 3.

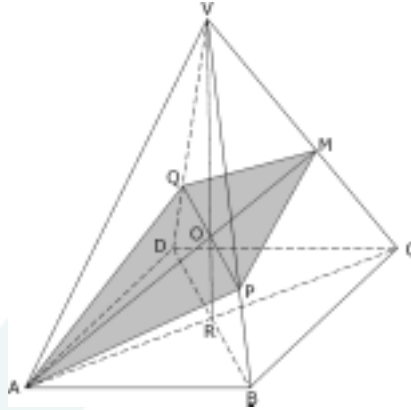
$$A) CR_{4,2} = C_{4+2-1,2} = C_{5,2} = 10$$

$$B) CR_{n,3} = C_{n+3-1,3} = C_{n+2,3} = \frac{(n+2)(n+1)n}{6}$$

## Matemática – Questão 08

Seja uma pirâmide regular de vértice  $V$  e base quadrangular  $ABCD$ . O lado da base da pirâmide mede  $\lambda$  e a aresta lateral  $\lambda\sqrt{2}$ . Corta-se a essa pirâmide por um plano que contém o vértice  $A$ , é paralelo à reta  $BD$ , e contém o ponto médio da aresta  $VC$ . **CALCULE** a área da seção determinada pela interseção do plano com a pirâmide.

**Resolução:**



Na pirâmide da figura, notemos que os triângulos  $VAC$  e  $VDB$  são equiláteros de lados medindo  $\lambda\sqrt{2}$  e que o ponto  $O$  é o baricentro dos dois, logo

$$VR = AM = \frac{\lambda\sqrt{2} \cdot \sqrt{3}}{2} = \frac{\lambda\sqrt{6}}{2}$$

Os triângulos  $VQP$  e  $VDB$  são semelhantes e a razão de semelhança é de  $2/3$ , daí

$$PQ = \frac{2}{3}BD = \frac{2}{3}\lambda\sqrt{2}$$

Como as diagonais do quadrilátero  $APMQ$  são perpendiculares, visto que por simetria  $AQ = AP$  e  $MP = MQ$ , sua área  $S$  será dada pelo semiproduto das diagonais, ou seja,

$$S = \frac{1}{2} \cdot AM \cdot PQ = \frac{1}{2} \cdot \frac{\lambda\sqrt{6}}{2} \cdot \frac{2}{3}\lambda\sqrt{2}$$

$$S = \frac{\lambda^2\sqrt{3}}{3}.$$

## Matemática – Questão 09

**DEMONSTRE** que  $\sqrt[3]{20 + 14 \cdot \sqrt{2}} + \sqrt[3]{20 - 14 \cdot \sqrt{2}}$  é um número inteiro múltiplo de quatro.

### RESOLUÇÃO:

Façamos  $\sqrt[3]{20 + 14 \cdot \sqrt{2}} = A$ ,  $\sqrt[3]{20 - 14 \cdot \sqrt{2}} = B$  e  $A + B = x$ :

$$x^3 = (A+B)^3 = A^3 + 3A^2B + 3AB^2 + B^3$$

$$x^3 = A^3 + 3AB(A+B) + B^3$$

$$x^3 = 20 + 14\sqrt{2} + 3\sqrt[3]{(20 + 14\sqrt{2}) \cdot (20 - 14\sqrt{2})} \cdot x + 20 - 14\sqrt{2}$$

$$x^3 = 40 + 3\sqrt[3]{400 - 392} \cdot x$$

$$x^3 - 6x - 40 = 0$$

Notemos que  $4^3 - 6 \cdot 4 - 40 = 0$ , logo 4 é raiz da equação.

Dividindo o polinômio  $x^3 - 6x - 40$  por  $x - 4$ , temos:

4	1	0	-6	-40	
	1	4	10	0	→ resto

$x^2 + 4x + 10 = 0$ , equação que tem discriminante  $\Delta = 4^2 - 4 \cdot 1 \cdot 10 = -26 < 0$ , daí duas raízes não reais.

Do exposto o único valor real para  $x$  é 4, ou seja,  $\sqrt[3]{20 + 14 \cdot \sqrt{2}} + \sqrt[3]{20 - 14 \cdot \sqrt{2}} = 4$ ; portanto, inteiro e múltiplo de 4.

c.q.d.

## Matemática – Questão 10

Considere uma matriz  $A$ ,  $n \times n$ , de coeficientes reais, e  $k$  um número real diferente de 1. Sabendo-se que  $A^3 = kA$ , **PROVE** que a matriz  $A+I$  é invertível, onde  $I$  é a matriz identidade  $n \times n$ .

### RESOLUÇÃO:

Façamos o produto.

$$\begin{aligned}(A+I).(aA^2 + bA + cI) &= aA^3 + bA^2 + cA + aA^2 + bA + cI \\ &= akA + bA^2 + cA + aA^2 + bA + cI \\ &= (a+b)A^2 + (ak+b+c)A + cI\end{aligned}$$

tomemos  $a+b = ak+b+c = 0$  e  $c = 1$ , ou seja,

$$a = \frac{1}{1-k}, b = -\frac{1}{1-k} \text{ e } c = 1$$

notemos que

$$\begin{aligned}(A+I)\left(\frac{1}{1-k}A^2 - \frac{1}{1-k}A + I\right) &= \\ \left(\frac{1}{1-k}A^2 - \frac{1}{1-k}A + I\right) \cdot (A+I) &= I\end{aligned}$$

e portanto  $\frac{1}{1-k}A^2 - \frac{1}{1-k}A + I$  é a inversa de  $A + I$ .